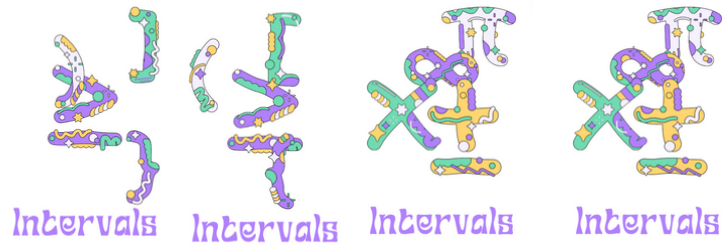


# EL JOC DELS INTERVALS

1) Agafes 4  
cartes:





2) Les gires i  
crees un  
interval




Apunta tots els que surtin, tots són possibles? Si  
n'hi ha algun que no, explica el perquè.

Queda't amb un de possible i:

3) Representes l'interval a la recta real



Hem tret aquestes 6 cartes:



Quins intervals podem fer?

$[+3, -3)$   $\longrightarrow$  **No** pot ser perquè  $+3 > -3$

$[-3, +3)$   $\longrightarrow$  Aquest **sí** que pot ser

Representem l'interval que sí que podem fer:

